



# Van mensen en mammoeten

## Werkblad • Niveau 2


Welkom in de tentoonstelling **Van mensen en mammoeten**. Oriënteer je via de rode cijfers op de panelen. Je begint links in de zaal, na de zone *Homo neanderthalensis* (17).

Veel ontdekplezier!

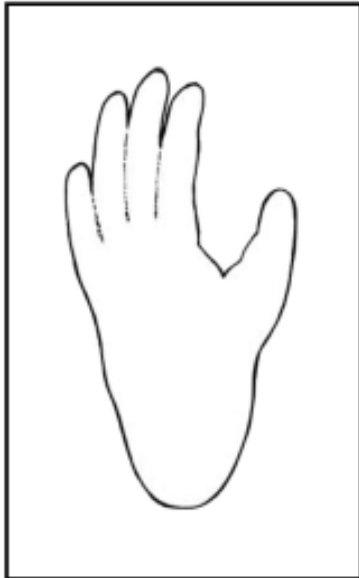
### DE MENS TUSSEN DE PRIMATEN

De mens is een  
primate (1)  
en de  
fossiele primaten (3)

1. De mens is een primate, net zoals de mensapen, zijn naaste familieleden. Zoek de primaten en duid de orang-oetan, de chimpansee en de gorilla aan.



Het verschil tussen mens en mensapen...(2)



voet van een chimpansee



voet van een mens

2. Een van de verschillen tussen mens en mensapen is dat de mens slechts op twee voeten loopt. Vergelijk de voet van een chimpansee met de voet van een mens. De grote teen van een chimpansee lijkt op de duim van een hand; hij is ....., want de chimpansee kan er mee grijpen.



Zou je nu deze voetstappen kunnen herkennen?

.....Australopitheken .....

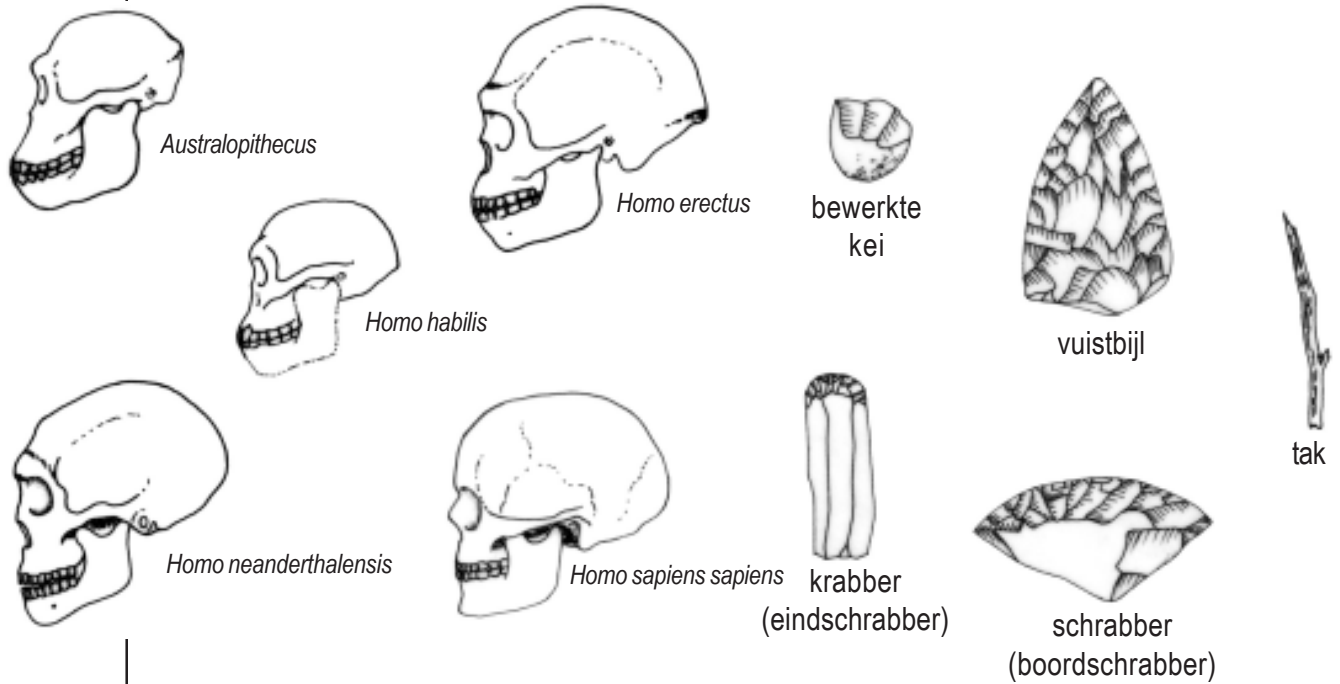
EVOLUTIE VAN DE MENS

De australopitheken (4)

3. Hier zie je een tafereeltje over het leven van de australopitheken. Konden ze echt alles doen wat we op de tekening zien? Haal een streep door de fouten.




**Zuil evolutie en zone *Homo neanderthalensis* (17-18-19)**



4. Elke soort prehistorische mens heeft een moeilijke naam die geleerden ze gaven. Onze voorouders leefden niet allemaal tegelijkertijd. Plaats ze in de juiste volgorde van de vroegste tot de recentste en verbind ze met een typisch werktuig voor die tijd.

***Homo erectus* en het landschap in onze streken (7)**

5. *Homo erectus* was de eerste voorouder die .....(werelddeel) verliet. Eerst naar ....., dan naar ..... . Het klimaat en de plantengroei waren toen heel anders en veranderden daarbij in de loop der tijden: wij spreken over ijstijden en tussenijstijden. Hieronder zie je een landschap uit onze streken onder drie verschillende klimaten. Schrijf het vegetatietype bij elke tekening (boreaal woud, mammoetsteppe, boontoendra)



.....

6. De *Homo erectus* bereikte Europa 1,8 miljoen jaar geleden. Sinds wanneer kwam hij ook in België voor? .....

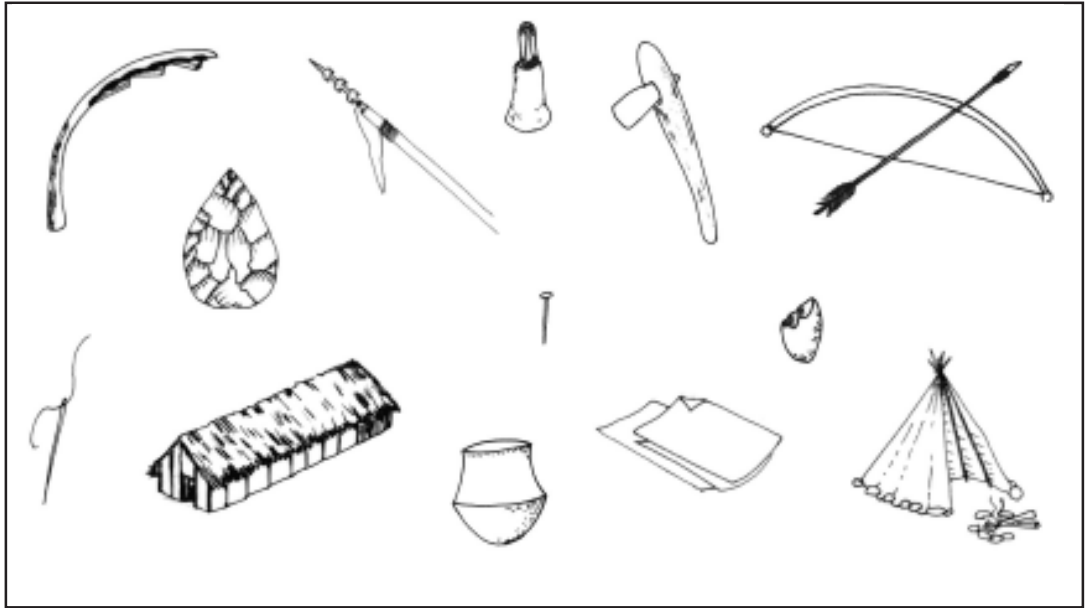
**Spy (18-19)**

7. De mensen van Spy zijn heel beroemd. Ze werden in 1886 in een grot bij Namen ontdekt. Het zijn:

- Cro-Magnon-mensen
- Neanderthalers
- 'Wijze mensen'


**Leefwijze van de *Homo sapiens sapiens* (11-12, 15-16)**

8. De Cro-Magnon-mens is een *Homo sapiens sapiens*. Net als zijn voorouders was het een nomadische jager-verzamelaar. Doorstreep alle voorwerpen en gereedschappen die de Cro-Magnon-mens nooit gemaakt of gebruikt heeft.



**DIEREN DIE GOED AAN DE KOU AANGEPAST ZIJN (14)**

9. In onze streken leefden er tijdens de ijstijden andere dieren dan nu; zo zijn er de oeros en de wolharige neushoorn. Duid andere dieren die toen leefden aan.



**Tijdslijn aan de ingang**

10. Ons bezoek zit erop. Kan je de belangrijkste gebeurtenissen op de tijdlijn plaatsen?

