



# Van mensen en mammoeten

## Werkblad • Niveau 1





Welkom in de tentoonstelling **Van mensen en mammoeten**. Op de panelen staan rode cijfers die de juiste volgorde aangeven. Het paneel met nummer 1 staat links in de zaal na de zone *Homo neanderthalensis* (17).

Veel ontdekplezier!

### DE MENS TUSSEN DE PRIMATEN

De mens is een  
 primate (1)  
 en de  
 fossiele primaten (3)

1. De mens en de apen vormen samen een grote groep: de primaten. De orang-oetan, de gorilla en de chimpansee zijn onze naaste familieleden. Welke van de onderstaande dieren zijn een primate (maak de juiste vakjes zwart)?



**Het verschil tussen mens en mensapen...(2)**

2. Een van de verschillen tussen mens en mensapen is dat de mens slechts op twee voeten loopt. Vergelijk de voet van de chimpansee en de voet van een mens. De grote teen van een chimpansee lijkt op de duim van een hand; een chimpansee kan er mee grijpen.



voetsporen en voet van een chimpansee  
VIERVOETER



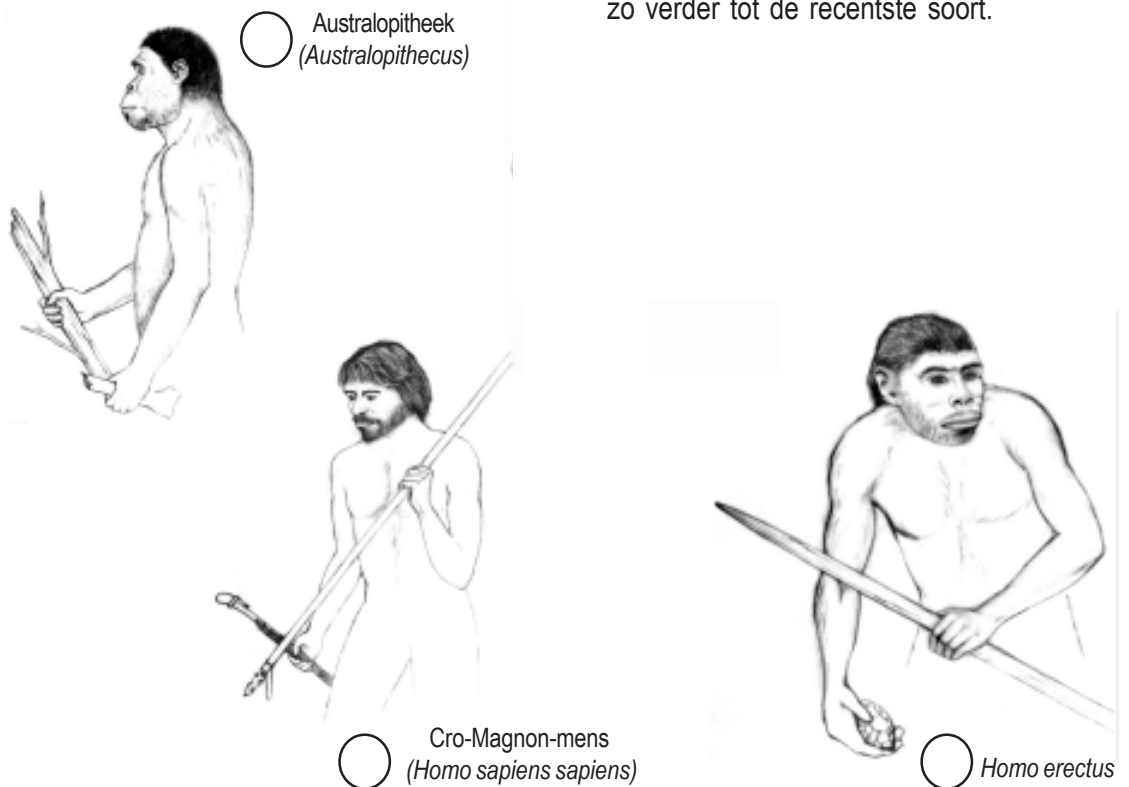
voetsporen en voet van een mens  
TWEevoETER

**EVOLUTIE VAN DE MENS**

**Zuil evolutie**

3. De prehistorische mensen leefden niet allemaal tegelijk. Elke soort voorouder heeft een moeilijke naam die geleerden ze gaven.

Geef elke soort een nummer: de oudste soort krijgt nummer 1 en dan zo verder tot de recentste soort.



Australopithecus  
(Australopithecus)

Cro-Magnon-mens  
(Homo sapiens sapiens)

Homo erectus

## HOE LEEFDEN ONZE VOORoudERS?


### De australopitheken (4)

4. Hier zie je een tafereeltje over het leven van de australopitheken. Konden ze echt alles doen wat we op de tekening zien? Haal een streep door de fouten.

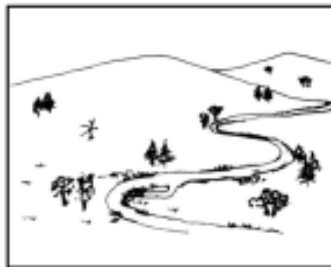


### Homo erectus (7)

5. *Homo erectus* was de eerste voorouder die Afrika verliet. Eerst naar Azië, dan naar Europa. Soms was het heel koud; soms was het klimaat en de plantengroei zoals nu bij ons. Hoe zag het landschap er volgens jou uit toen het heel koud was? Zet een kruisje bij jouw keuze.



savanne



steppe



gematigd woud

### Spy (18-19)

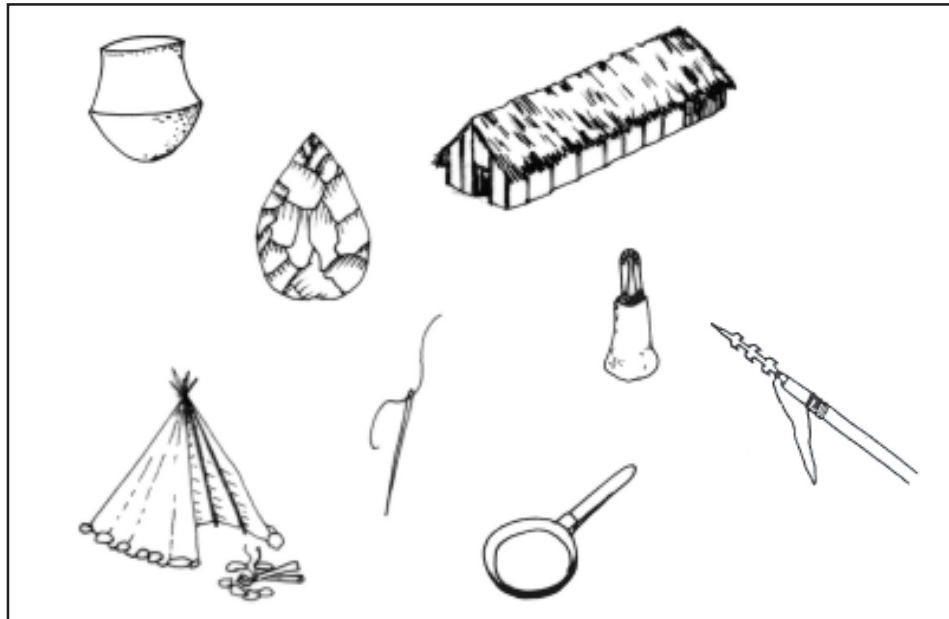
6. De mensen van Spy zijn heel beroemd. Ze werden in 1886 in een grot bij Namen ontdekt. Het zijn:

- Cro-Magnon-mensen
- Neanderthalers
- 'Wijze mensen'

7. De Neanderthaler leefde voornamelijk in ..... (geef de naam van het werelddeel).

**Leefwijze van de  
*Homo sapiens sapiens*  
(11-12, 15-16)**


8. De Cro-Magnon-mens is een *Homo sapiens sapiens*. Net als zijn voorouders was het een nomadische jager-verzamelaar. Doorstreep alle voorwerpen en gereedschappen die de Cro-Magnon-mens nooit gemaakt of gebruikt heeft.



**DIEREN DIE GOED AAN DE KOU AANGEPAST ZIJN (14)**

9. Dit landschap stelt onze streken voor zoals ze er tijdens de laatste ijstijd uitzagen. Zoek de naam van alle dieren die er op staan.

1. olifant
2. rendier
3. neushoorn
4. mammoet
5. poolvos
6. hert
7. wolharige neushoorn
8. koe



**Tijdslijn aan de  
ingang**

10. Ons bezoek zit erop. Kan je de grote stappen in de evolutie van de mens nummeren? Je begint met de vroegste en eindigt met de recentste.

- bewerkt gereedschap
- landbouw en veeteelt
- vuur
- rechtop lopen
- wonen in hut of tent