



Werkblad • Niveau 1

1. In het midden van de zaal zie je skeletten van dinosauriërs. Mijnwerkers ontdekten deze dinosauriërs in het Belgische dorp Bernissart. Welke van deze vier dinosauriërs was het? Teken er een lijntje rond.



Diplodocus



Triceratops



Iguanodon



Velociraptor

2. Links van de ingang zie je een model van de mijn waar die ontdekking gebeurde. Hoeveel iguanodons zie je?

Het mijnmodel toont niet alle iguanodons, want er zijn er dertig gevonden.

3. Je ziet hier ook hoe fossielen ontstaan. Weet je welke tekeningetjes een fossiel voorstellen? Zet er een kruisje bij.



een potafdruk van een dinosauriër



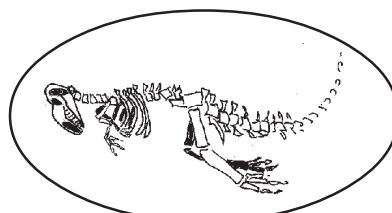
een hond



een pluim



een dinosaurusei



een dinosaurusskelet



een ammoniet

4.a. Hoeveel poten heeft een dinosauriër?.....

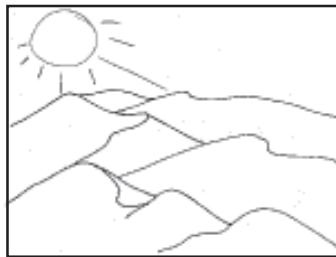
4.b. Op hoeveel poten loopt een iguanodon?



5. In de mijn van Bernissart zijn ook fossielen van waterschildpadden en krokodillen ontdekt. Toen al deze dieren nog leefden, was het op die plaats:



koud en vochtig



warm en droog



warm en vochtig

6. Duid op deze tekening de prehistorische dieren aan die geen dinosauriër zijn.



7. Aan zijn tanden zie je wat een iguanodon at. Kijk maar eens naar de iguanodon op vier poten.
Verbind de iguanodon met zijn bord.



Iguanodon



planten



vlees

8. In het trappenhuis zie je tekeningen van dinosauriërs uit Jura en Krijt. Verbind elke dinosauriër met zijn naam.



• Allosaurus •

• Brachiosaurus •

• Iguanodon •

• Velociraptor •

