

Waar je de antwoorden moet zoeken, zie je op het plan achteraan.

zone 1 Onder onze voeten

1. In de glazen kooien zie je skeletten van dinosauriërs. Mijnwerkers ontdekten deze dinosauriërs in het Belgische dorp Bernissart. Welke van deze vier dinosauriërs was het?



Tyrannosaurus rex



Stegosaurus



Iguanodon



Plateosaurus

Neem de trap en ga naar beneden, verdieping -1. Ga door de glazen tunnel, richting tent. Voor de volgende vraag ga je de glazen vitrines met fossielen in en rond de tent bekijken.

2. Zoek 4 fossielen die niet van een dinosauriër komen.


1.....

2.....

3.....

4.....

3. In de mijn van Bernissart zijn ook fossielen van waterschildpadden en krokodillen ontdekt. Toen al deze dieren nog leefden, was het op deze plaats:



koud en moerassig gebied



warm en droog gebied




warm en moerassig gebied

zone 2 *Dinosauriërs levende dieren*

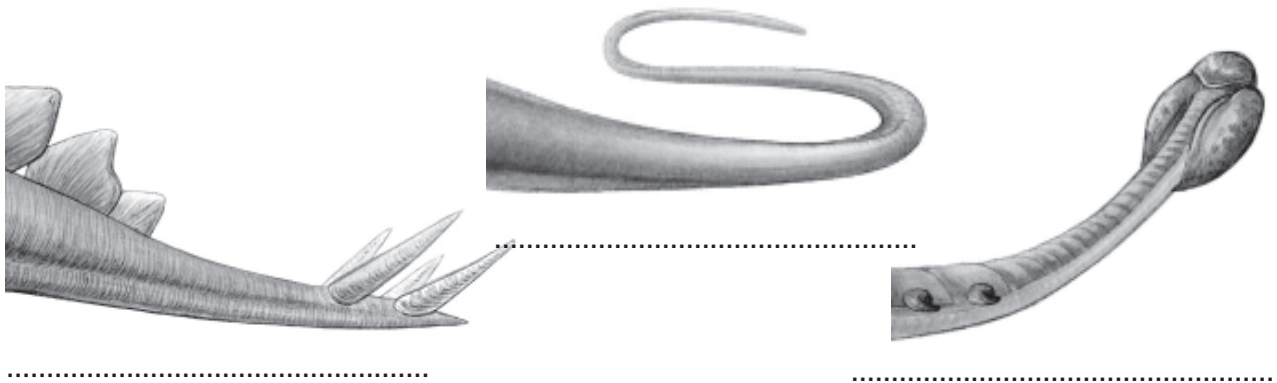
Ga enkele trappen naar beneden maar blijf aan de kant van de ramen.

4. Aan zijn tanden kan je zien wat een dier eet. Verbind volgende dinosauriërs met hun bord.



Vervolg je weg langs de ramen.

5. Drie dinosauriërs verloren hun staart. Vind jij de naam van de eigenaars terug?



6. Duid aan met juist of fout:

- * Dinosauriërs legden hun eieren onder water. De eieren hadden een zachte schaal.
- * Dinosauriërs maakten meestal een nest en legden hierin eieren met een harde schaal.
- * Dinosauriërs legden geen eieren .

7. De Parasaurolophus had een 'kam' op zijn kop. Hij gebruikte deze kam...

- * als een snorkel om te ademen onder water.
- * als een rietje om te drinken.
- * als een trompet om geluid te maken.



Begeef je naar de glazen kooien. Hierop wordt een filmpje getoond over de voortbeweging van de Iguanodon.

8. Dinosauriërs haddenpoten. De Iguanodon stapte op.....poten maar liep op.....poten.

Daal enkele trappen af. Rechts vind je een opgezette pinguin.

9. Waar leven pinguïns?
- * Aan de Noordpool?
 - * Aan de Zuidpool?
 - * In warme gebieden?

Wat is de naam van een dinosauriër die in hetzelfde gebied leefde?.....


zone 3 *Nog steeds bij ons*

Ga naar de *Tyrannosaurus rex*.

10. Welk van de volgende dieren bevindt zich aan de voeten van de *Tyrannosaurus rex*.



Caudipteryx



Olorotitan



Krokodil

Hij is bedekt meten lijkt goed op een.....



11. Vervolledig met een tekening.



Ga achteraan in de zaal rechts van de ijzeren draaitrap

12. Wel of geen dinosauriër?

Dinosauriërs verschillen van andere 'reptielen' (archosauriërs) door bijvoorbeeld de stand van hun poten. Teken op deze tekeningen de poten.

Dinosauriërs	De andere 'reptielen' (archosauriërs)
	

naar
vindplaats -1

